

نام و نام خانوادگی:

آزمون ریاضی فصل های (۱،۲،۳)


دبستان: پسرانه ی سرای دانش

آموزش پرورش استان بوشهر: شهرستان دیلم

آموزگار: خانم احمدزاده

تاریخ: ۱۴۰۱/۱۰/۱۱

۱. فرزندم: با توجه به شکل جدول زیر را کامل کن و به عدد و حروف بنویس. (۲)



ده تایی	یکی

به عدد:

به حروف:

۲. قهرمانم: با کار تهای هر چقدر می توانی عدد دو رقمی بنویس. (۵)

۳. علی ۲۳ تا کتاب دارد. ۱۲ تا از آن ها کتاب داستان و بقیه کتاب علمی است. علی چند

کتاب علمی دارد. (با رسم شکل) (۱)

جزوه سیپی

۴. فرزندم: حاصل جمع زیر را به دست آورید. (۵)

$$۳۰ + ۵ + ۱۰ + ۵ + ۵ = \dots\dots\dots$$

۵. فرزندم: جمع و تفریق زیر را به دست آورید. (۱)

$$۲ + ۸ = \dots\dots\dots$$

$$۸۰ - ۲۰ = \dots\dots\dots$$

۶. باهوشم: جاهای خالی را پر کنید. (۱)

دسته ی ده تایی به اضافه ی ۳ دسته ی ده تایی می شوددسته س ده تایی

$$۲۰ + ۳۰ = \dots\dots\dots$$

۷. همه ی عدد های دو رقمی را بنویسید که رقم های یکان آن ۳ و ۴ و رقم دهگان آن ۵ و ۷ باشد. (۱)

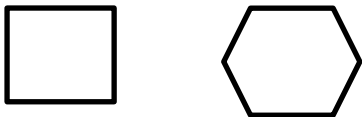
.....
.....

۸. فرزندم : جمع و تفریق زیر را به صورت فرآیندی بنویسید. (۱/۵)

جزوه سیتی

$$\begin{array}{r} 35 \\ + 23 \\ \hline \end{array}$$
$$\begin{array}{r} 76 \\ - 23 \\ \hline \end{array}$$

۹. فرزندم : تفاوت و شباهت های شکل زیر را بنویس . (۱) مجموع دروس (فصل ۳)



تفاوت :

شباهت :

۱۰. فرزندم: جمع زیر را به صورت تقریبی به دست آورید. (۱/۵)

$$\begin{array}{r} 47 \\ + 21 \\ \hline \end{array}$$

پاسخ نامه سوالات ریاضی پایه دوم ابتدایی نام آموزگار : خانم احمدزاده

دبستان : پسرانه ی (سرای دانش) دی ماه فصل (۱،۲،۳) تاریخ : ۱۴۰۱/۱۰/۱۱

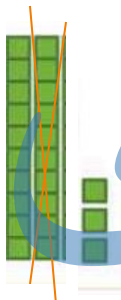
ده تایی	یکی
۴	۰

۱. به عدد : ۴۰

به حروف : چهل

۲. ۵۳، ۳۵

جزوه سیتی



۵۵

۱۰

۶۰

۵ دسته ی ده تایی
۵۰

۷۴، ۷۳، ۵۳، ۵۴

$$\begin{array}{r} 55 \\ + 3 \\ \hline 58 \end{array}$$

$$\begin{array}{r} 56 \\ - 3 \\ \hline 53 \end{array}$$

۹. تفاوت : تعداد ضلع های آنها با هم فرق دارد . تعداد گوشه های آن ها با هم فرق دارد .

شباهت : هر دو چند ضلعی هستند. هر دو داری ضلع و گوشه هستند .

۱۰.

$$\begin{array}{r} 50 \\ + 20 \\ \hline 70 \end{array}$$

جزوه سیپی